
	eboard 算数プリント	名前	
	(47) 小数×整数	日付	

1  小数×整数：練習

次の計算をしよう。


(1) $0.4 \times 2 =$

(2) $0.9 \times 3 =$

(3) $0.5 \times 6 =$

(4) $0.07 \times 8 =$

(5) $0.08 \times 5 =$

2  小数×整数の筆算：練習①

次の計算をしよう。

(1)
$$\begin{array}{r} 2.7 \\ \times 4 \\ \hline \end{array}$$

(2)
$$\begin{array}{r} 9.5 \\ \times 2 \\ \hline \end{array}$$


(3)
$$\begin{array}{r} 1.63 \\ \times 5 \\ \hline \end{array}$$

(4)
$$\begin{array}{r} 0.77 \\ \times 3 \\ \hline \end{array}$$

$$\begin{array}{r} (5) \quad 2.7 \\ \times \quad 7 \\ \hline \end{array}$$

$$\begin{array}{r} (6) \quad 7.5 \\ \times \quad 6 \\ \hline \end{array}$$

$$\begin{array}{r} (7) \quad 0.15 \\ \times \quad 9 \\ \hline \end{array}$$

3  小数×整数の筆算：練習②

次の計算をしよう。

$$\begin{array}{r} (1) \quad 3.1 \\ \times \quad 12 \\ \hline \end{array}$$

$$\begin{array}{r} (2) \quad 0.88 \\ \times \quad 52 \\ \hline \end{array}$$

$$\begin{array}{r} (3) \quad 6.74 \\ \times \quad 29 \\ \hline \end{array}$$

$$\begin{array}{r} (4) \quad 9.5 \\ \times \quad 16 \\ \hline \end{array}$$

$$\begin{array}{r} (5) \quad 8.19 \\ \times \quad 20 \\ \hline \end{array}$$

$$\begin{array}{r} (6) \quad 0.44 \\ \times \quad 50 \\ \hline \end{array}$$



こたえ

- 1 (1) 0.8 (2) 2.7
(3) 3 (4) 0.56
(5) 0.4
- 2 (1) 10.8 (2) 19
(3) 8.15 (4) 2.31
(5) 18.9 (6) 45
(7) 1.35
- 3 (1) 37.2 (2) 45.76
(3) 195.46 (4) 152
(5) 163.8 (6) 22