
	eboard さんすうプリント	なまえ	
	(23) 3けたのたし算、ひき算(筆算)	ひづけ	

1  3けた+3けたのたし算① (こたえが3けた)

つぎのけいさんを、しましょう。

$$(1) \quad \begin{array}{r} 319 \\ + 143 \\ \hline \end{array}$$

$$(2) \quad \begin{array}{r} 485 \\ + 247 \\ \hline \end{array}$$

$$(3) \quad \begin{array}{r} 704 \\ + 99 \\ \hline \end{array}$$

2  3けた+3けたのたし算② (こたえが4けた)


つぎのけいさんを、しましょう。

$$(1) \quad \begin{array}{r} 654 \\ + 812 \\ \hline \end{array}$$

$$(2) \quad \begin{array}{r} 594 \\ + 488 \\ \hline \end{array}$$

$$\begin{array}{r} (3) \quad 777 \\ + 333 \\ \hline \end{array}$$

$$\begin{array}{r} (4) \quad 991 \\ + \quad 9 \\ \hline \end{array}$$

3  3けた-3けたのひき算①（くりさがり）

つぎのけいさんを、しましょう。

$$\begin{array}{r} (1) \quad 364 \\ - 159 \\ \hline \end{array}$$

$$\begin{array}{r} (2) \quad 722 \\ - 491 \\ \hline \end{array}$$

$$\begin{array}{r} (3) \quad 560 \\ - 168 \\ \hline \end{array}$$

4  3けた-3けたのひき算②（百のくらいからのくりさがり）

つぎのけいさんを、しましょう。

$$\begin{array}{r} (1) \quad 603 \\ - 227 \\ \hline \end{array}$$


$$\begin{array}{r} (2) \quad 902 \\ - 555 \\ \hline \end{array}$$

$$\begin{array}{r} (3) \quad 542 \\ - 538 \\ \hline \end{array}$$

$$\begin{array}{r} (4) \quad 400 \\ - 97 \\ \hline \end{array}$$

$$\begin{array}{r} (5) \quad 302 \\ - 6 \\ \hline \end{array}$$

$$\begin{array}{r} (6) \quad 978 \\ - 969 \\ \hline \end{array}$$

5  4けたの筆算

つぎのけいさんを、しましょう。

$$\begin{array}{r} (1) \quad 2844 \\ + 3649 \\ \hline \end{array}$$

$$\begin{array}{r} (2) \quad 7364 \\ - 5849 \\ \hline \end{array}$$

$$\begin{array}{r} (3) \quad 4267 \\ + 3927 \\ \hline \end{array}$$

$$\begin{array}{r} (4) \quad 8256 \\ - 3628 \\ \hline \end{array}$$



こたえ

- 1 (1) 462 (2) 732
(3) 803
- 2 (1) 1466 (2) 1082
(3) 1110 (4) 1000
- 3 (1) 205 (2) 231
(3) 392
- 4 (1) 376 (2) 347
(3) 4 (4) 303
(5) 296 (6) 9
- 5 (1) 6493 (2) 1515
(3) 8194 (4) 4628